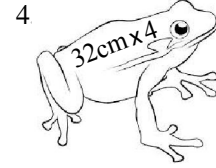
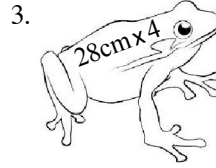
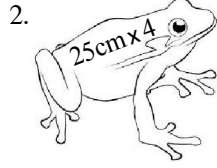
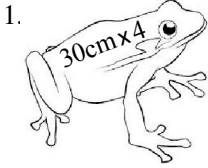


தரம் 5 புலமைப்பரிசில் பரீட்சைக்கான இலகுவழி மாதிர்ப் பரீட்சை - 22

ஆசிரியர் : P.அம்பிகைபாகன்
இடம் : ACA, ஆசிரியர்ன் வீட்டில்
குழு வகுப்புகளில்

1. வினாவில் உள்ள நான்கு தவளைகள் நான்கு தடவைகளில் பாயும் அளவுகள் தரப்பட்டுள்ளன. அதிக தூரம் செல்லக்கூடிய தவளையைச் சுற்றி வட்டமிடுக.



- கீழே கொடுக்கப்பட்ட சொற்களை ஏற்ற இடத்திலே வைத்து வசனத்தைப் பூரணப்படுத்துக.

கிலி, கிளி, கிழி, வால், வாழ், வாள், பாழ், பால், தோல், தோள்

2. புலியிடமுள்ளது
நீ நீடுழி
மரத்தை அறுப்பது
3. பயத்தினால் மனதில் பிடித்தது.
சிறுவர்கள் மரத்திலிருந்த யைப் பிடித்தார்கள்.
தம்பி புத்தகத்தைத்து விட்டான்.
4. குழந்தை குடித்தது.
பயன்படுத்தாத கட்டடம் அடைந்தது.
5. தோழன் கொடுத்து உதவினான்.
வாழைப்பழத்தை உரித்துச் சாப்பிடவேண்டும்.

வினாக்களுக்கான விடைகளைப் புள்ளிக்கோட்டில் எழுதுக.

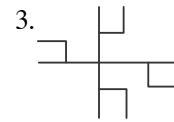
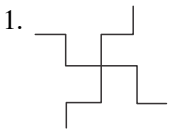
6. கமலின் ஏக புத்திரனான விமலன் அண்ணனுடனும் தம்பியுடனும் பாடசாலைக்குச் சென்றான். இவ்வாக்கியத்தில் உள்ள தவறு யாது?
.....
7. தற்பொழுது அறுபது வயதாகவிருக்கும் விமலா ஐம்பது வருடங்களுக்கு முன் தனது முப்பதாவது பிறந்த நாளை வெகு விமரிசையாகக் கொண்டாடினாள். இவ்வாக்கியத்தில் உள்ள தவறு யாது?
.....

தரப்பட்டுள்ள வாக்கியங்களில் மிகச்சரியான கருத்துள்ள வாக்கியத்தைத் தெரிவு செய்க.

8. 1. மழையைப் பெறுவதற்கு மனிதனுக்கு காடுகளை அழிக்காதிருத்தல் அவசியமாகின்றன.
2. காடுகளை அழிக்காதிருத்தல் மனிதனுக்கு அவசியமாகின்றன மழையைப் பெறுவதற்கு
3. மனிதனுக்கு மழையைப் பெறுவதற்கு காடுகளை அழிக்காதிருத்தல் அவசியமாகின்றன.
9. 1. இலங்கை நான்கு புறமும் கடலால் சூழப்பட்ட ஒரு தீவாகும்.
2. நான்கு புறமும் கடலால் சூழப்பட்ட ஒரு தீவாகும் இலங்கை.
3. இலங்கை ஒரு தீவாகும் நான்கு புறமும் கடலால் சூழப்பட்டன.
10. இடி மின்னலுடன் மழைபெய்யும் போது இடி மின்னல் ஒரே நேரத்தில் ஏற்பட்டாலும் எமக்கு மின்னல் வெளிச்சம் முதலில் தெரிந்து அதன் பின்னர் இடிச்சத்தம் கேட்பதற்கான காரணம் யாது?
.....

24 முதல் 32 வரையிலான வினாக்களுக்கு பொருத்தமான விடையைத் தெரிவு செய்க.

24. இரவு வேளைகளில் சுருங்காத இலை எது?
 1. புளியம் இலை
 2. தொட்டாற்சுருங்கி இலை
 3. அகத்தி இலை
 4. முருக்கம் இலை
25. மாலை கட்டப் பயன்படாத பூ எது?
 1. செம்பரத்தைப் பூ
 2. கனகாம்பரப் பூ
 3. தென்னம் பூ
 4. மல்லிகைப் பூ
26. இந்துக்களின் சமயநிகழ்வுகளில் பயன்படுத்தாத இலை எது?
 1. வாழையிலை
 2. வேப்பமிலை
 3. மாவிலை
 4. பாவட்டமிலை
27. அணில் விரும்பி உண்ணாத பூ எது?
 1. கறிமுருங்கைப்பூ
 2. வாழைப்பூ
 3. புளியம்பூ
 4. இலுப்பைப்பூ
28. அன்றாடம் மனிதன் வேலை செய்வதற்குத் தேவையான சக்தியைப் பெற உகந்த போசணைச் சத்து எது?
 1. இரும்புச்சத்து
 2. புரதச்சத்து
 3. மாப்பொருட்சத்து
 4. விற்றமின்கள்.
29. இலங்கையில் உற்பத்தி செய்யப்படும் தரமான பொருட்களுக்கு வழங்கப்படும் தரச் சான்றிதழ் யாது?
 1. SLS
 2. ISO
 3. ISBN
 4. PHI
30. தெறி ஓட்டையைத் தைப்பதற்குப் பயன்படும் தையல் எது?
 1. பெரு நூலோடி
 2. சிறு நூலோடி
 3. சோம் தையல்
 4. கம்பளித்தையல்
31. ஆங்கிலேயரிடமிருந்து இலங்கை சுதந்திரம் பெற்ற பின் முதன் முதலாக இலங்கையின் தேசியக்கொடியை ஏற்றியவர் யார்?
 1. ஜெ. ஆர். ஜெயவர்த்தனா
 2. பிரேமதாசா
 3. டி. எஸ். சேனாநாயக்கா
 4. அமிர்தலிங்கம்
32. இலங்கை அரச இலச்சினையில் காணப்படாதது எது?
 1. பூரண கும்பம்
 2. அரச இலை
 3. தர்ம சக்கரம்
 4. மலர் இதழ்
33. பின்வரும் உருக்களில் உள்ள செங்கோணங்களின் எண்ணிக்கையை எழுதுங்கள்.

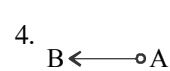
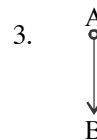
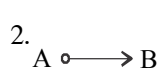
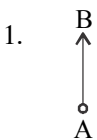


.....

.....

.....

34. பின்வரும் ஒவ்வொரு உருவிலும் Aக்கு எத்திசையில் B உள்ளார் என்பதை எழுதுங்கள்.




.....

.....

.....

.....

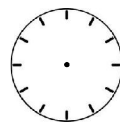
35. பின்வரும் ஒவ்வொரு உருவிலும் உள்ள கடிகார முகங்களில் குறித்த நேரத்தை மணி, நிமிட முள் கீறிக் குறித்துக் காட்டுக.




9.00



4.30

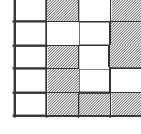
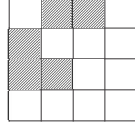
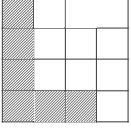


3.45



11.55

36. பின்வரும் ஒவ்வொரு ஆங்கில எழுத்துக்களும் கொண்டுள்ள பரப்பளவு எத்தனை சதுரங்கள் என எழுதுங்கள்.



37. ஒரு மனிதனின் இரு கைகளையும் பெருவிரல் உள்ளே மடித்த நிலையில் உள்ள படத்தில் சாதாரண வருடமொன்றின் 12 மாதங்களையும் எழுதி அவை கொண்டுள்ள நாட்களையும் எழுதுங்கள். (உங்கள் வசதிக்காக ஜனவரி மாதம் குறித்துக் காட்டப்பட்டுள்ளது.)

	ஜனவரி	31 நாட்கள்கள்

38. ஒரு வருடத்தின் ஆவணி மாத நாட்காட்டியின் நிரப்பப்படாத தினங்களை நிரப்பவும்.

திங்கள்	செவ்வாய்	புதன்	வியாழன்	வெள்ளி	சனி	ஞாயிறு
			01			04
		07			10	
			15			18
19				23		
26				30		

39. ஒவ்வொரு வினாவிலும் இரு சம பாகங்களாக பிரிக்கப்பட்டுள்ள உருவின் கீழ்க் கீறிடுக.



40. 4 லீற்றர் கொள்ளளவுள்ள இக்கலனில் 250ml கொள்ளக்கூடிய அளவையால் எத்தனை தடவைகள் நீர் நிரப்பினால் பாத்திரம் பூரணமாகும்?

