



**"COVID 19 கால மாற்று உபாய கல்வி நிகழ்ச்சிதிட்டம் - 2020
COVID19 Period Alternative Strategic Education Programme -2020"**



தரம் -5

வலயக் கல்வி அலுவலகம்
மட்டக்களப்பு மேற்கு


நேரம் : 30 நிமிடம்

நுண்ணறிவு - 2

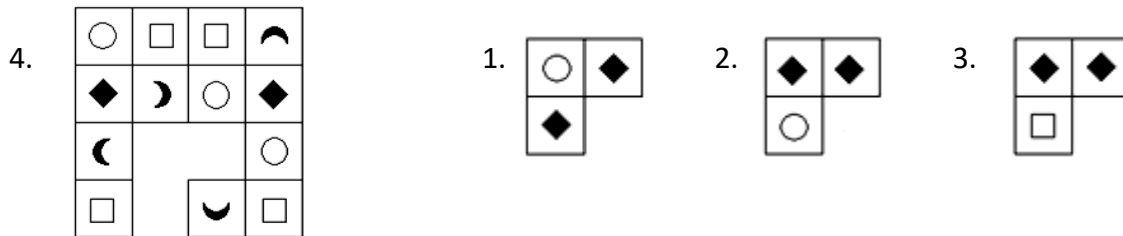
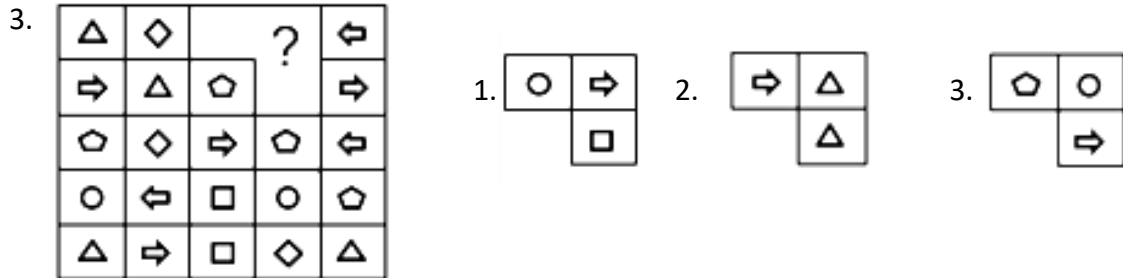
திகதி :- 04.04.2020

சரியானதும் மிகவும் பொருத்தமான விடையினைத் தெரிவு செய்து அதன் கீழ்க் கோடிடுக.

1ம்,2ம் வினாக்களில் அடுத்து வரும் உருவின் கீழ் கோடிடுக.



03ம், 04ம் வினாக்களில் காணப்படும் உருவின் இடைவெளியில் பொருத்தக் கூடிய விடையின் கீழ் கோடிடுக.



5,6 வினாக்களில் தரப்பட்டுள்ளவற்றில் நான்கை ஒரு கூட்டமாகவும் இரண்டை வேறொரு கூட்டமாகவும்

வேறுபடுத்தலாம். நான்காக வகைப்படுத்தும் கூட்டத்தில் அடங்காதவை எவை?

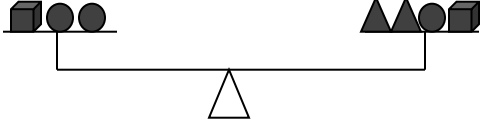
5. பனை,வேம்பு,கத்தரி,பப்பாசி,கித்துள்,பலா

1. கத்தரி,பப்பாசி 2. பனை,கித்துள் 3. பலா,பப்பாசி

6. முதலை,கீரி,பாம்பு,ஆமை,ஒணான்,அணில்

1. முதலை,ஆமை 2. பாம்பு ஒணான் 3. கீரி, அணில்

16. ▲ இதன் நிறை 125g ஆயின், தராசின் தட்டுக்களில் உள்ள பொருட்களின் மொத்த நிறை எவ்வளவு?



1. 1000g

2. 500g

3. 1500g

17. ஒரு நான்கிலக்க எண்ணில் நூறாமிட இலக்கம் ஓராமிட இலக்கத்தின் இருமடங்காகும். ஆயிரமாமிட

இலக்கம் ஓராமிட இலக்கத்தின் மூன்று மடங்காகும். அவ்வெண்ணாக அமையக் கூடியதல்லாதது?

1. 3251

2. 9623

3. 3521

18. ஒரு மாம்பழத்தின் விலை ஒரு தோடம்பழத்தின் விலையைவிட ரூ.8 அதிகமாகும். 4மாம்பழத்தினதும்

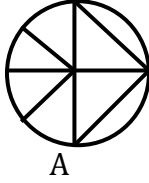
3 தோடம்பழத்தினதும் விலை ரூ.172 ஆயின், 2மாம்பழங்களின் விலை எவ்வளவு?

1. ரூ.56

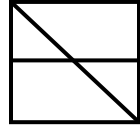
2. ரூ.40

3. ரூ. 24

19. உரு A உரு B ஆகியவற்றினைப் பற்றி கூறக்கூடிய கூற்று



A



B

1. உருA யில் உரு B யைவிட அதிக முக்கோணிகளும் அதிக செங்கோண முக்கோணிகளும் உண்டு.

2. உருB யில் உரு A யைவிட அதிக முக்கோணிகளும் அதிக செங்கோண முக்கோணிகளும் உண்டு.

3. உருA யில் உருB யைவிட அதிக முக்கோணிகளும் சமனான செங்கோண முக்கோணிகளும் உண்டு.

20. வெற்றிடத்திற்கு பொருத்தமான சொல்லைத் தெரிவு செய்க.

குதிரை: கணக்கும் எனின், எருது

1. எக்காளமிடும்

2. முக்காரமிடும்

3. கத்தும்